

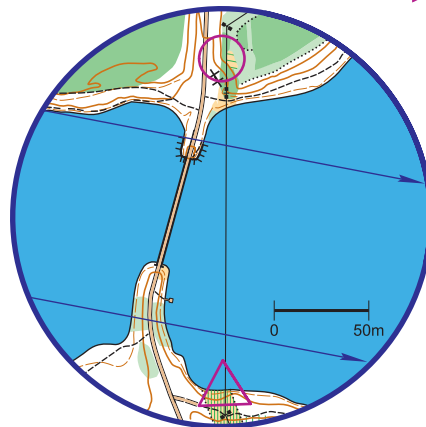
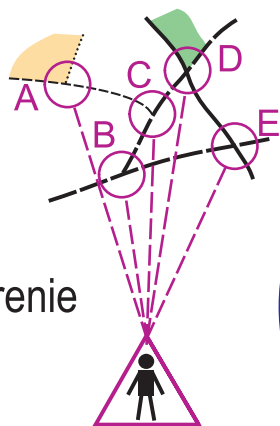
Orientacja Precyzyjna "Osie - Grzybek" OP3

A

○ Punkt kontrolny (PK) - oznaczony w terenie biało-pomarańczową tabliczką.

△ Punkt podejmowania decyzji OP3 Grzybek (drewniny słupek ZPK).

1. Stań przy słupku ZPK (OP3 Grzybek).
2. W terenie znajduje się 6 PK - odzyskaj wszystkie.
3. Zlokalizuj w terenie punkt z mapki nr 1, zadanie ułatwią opisy (tekst lub piktogram) objaśniające szczegóły miejsca usytuowania PK.
4. Zaznacz odpowiedź korzystając z zasady, że punkt w terenie najbardziej z lewej to A, następny B itd. (niezależnie czy stoi bliżej czy dalej - patrz rys. obok). Gdy punktu narysowanego na mapie nie ma w terenie zaznacz odpowiedź "Z".
5. W ten sam sposób rozwiąż kolejne zadania.

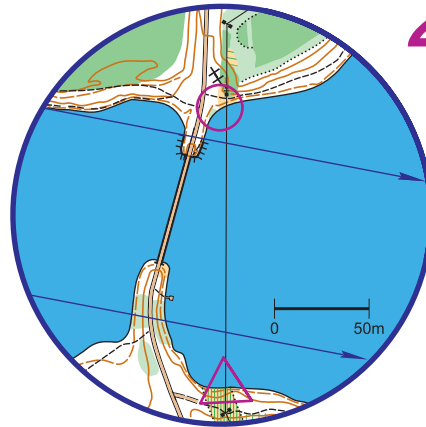


1

pd-wsch róg tarasu

| | | | | | |
|---|--|---|--|---|--|
| 1 | | ⤴ | | ⤵ | |
|---|--|---|--|---|--|

| | | | | | | |
|---|---|---|---|---|---|---|
| A | B | C | D | E | F | Z |
|---|---|---|---|---|---|---|

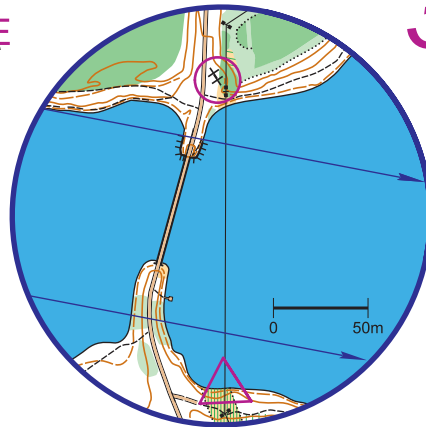


2

brzeg zalewu

| | | | | | |
|---|--|---|--|---|--|
| 2 | | ⊖ | | ⊙ | |
|---|--|---|--|---|--|

| | | | | | | |
|---|---|---|---|---|---|---|
| A | B | C | D | E | F | Z |
|---|---|---|---|---|---|---|



3

pn-wsch tablica inf., wsch strona

| | | | | | |
|---|--|---|---|--|---|
| 3 | | ↗ | ○ | | ○ |
|---|--|---|---|--|---|

| | | | | | | |
|---|---|---|---|---|---|---|
| A | B | C | D | E | F | Z |
|---|---|---|---|---|---|---|