

Orientacja Precyzyjna

"Osie - Grzybek" OP3

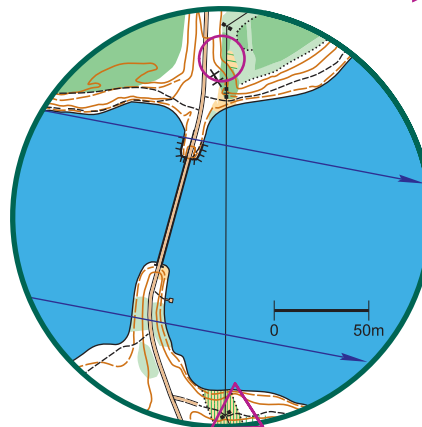
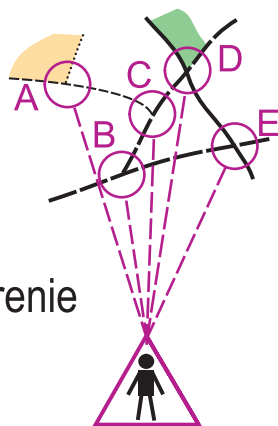
A

skala 1:4000



- Punkt kontrolny (PK) - oznaczony w terenie biało-pomarańczową tabliczką.
- △ Punkt podejmowania decyzji OP3 Grzybek (drewniny słupek ZPK).

1. Stań przy słupku ZPK (OP3 Grzybek).
2. W terenie znajduje się 6 PK - odzyskaj wszystkie.
3. Zlokalizuj w terenie punkt z mapki nr 1, zadanie ułatwią opisy (tekst lub piktogram) objaśniające szczegóły miejsca usytuowania PK.
4. Zaznacz odpowiedź korzystając z zasady, że punkt w terenie najbardziej z lewej to A, następny B itd. (niezależnie czy stoi bliżej czy dalej - patrz rys. obok). Gdy punktu narysowanego na mapie nie ma w terenie zaznacz odpowiedź "Z".
5. W ten sam sposób rozwiąż kolejne zadania.

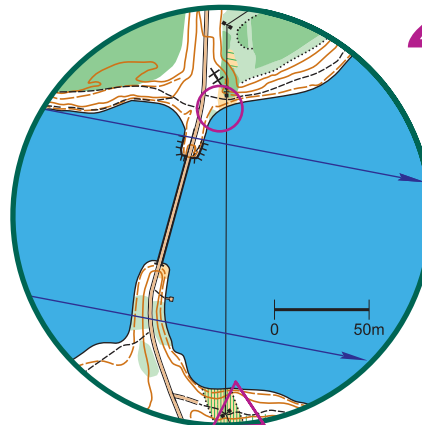


1

pd-wsch róg tarasu

1						
---	--	--	--	--	--	--

A	B	C	D	E	F	Z
---	---	---	---	---	---	---

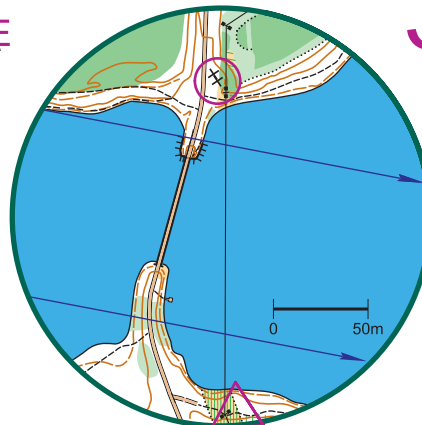


2

brzeg zalewu

2						
---	--	--	--	--	--	--

A	B	C	D	E	F	Z
---	---	---	---	---	---	---



3

pn-wsch tablica inf., wsch strona

3						
---	--	--	--	--	--	--

A	B	C	D	E	F	Z
---	---	---	---	---	---	---